

กลุ่มสาระการเรียนรู้การงานอาชีพและเทคโนโลยี รหัสวิชา ง22101 ระดับชั้นมัธยมศึกษาปีที่ 2

คำชี้แจง ให้นักเรียนเลือกคำตอบที่ถูกต้องที่สุดเพียงข้อเดียว

1. ข้อใดแสดงถึงการให้กำลังใจแก่สมาชิกในครอบครัว
 1. พ่อให้เงินลูกเมื่อลูกถูกครูทำโทษ
 2. ดาวพุดเยาะเย้ยพี่ชายที่ถูกพ่อตำหนิ
 3. หญิงพุดปลอบใจน้องเมื่อน้องถูกแม่ดุ
 4. ชายล้อเลียนน้องเมื่อน้องนำปัญหามาปรึกษา
2. การวางแผนทำงานบ้านมีประโยชน์อย่างไร
 1. ลดค่าใช้จ่าย
 2. ทำให้งานเสร็จเร็ว
 3. ช่วยลดปริมาณงาน
 4. ประเมินผลงานได้ง่าย
3. ข้อใดเป็นการปลูกฝังนิสัยที่ดีในการวางแผนทำงานบ้าน
 1. ทำงานที่ซับซ้อน
 2. ทำงานให้ทันเวลา
 3. ทำงานตามระบบและขั้นตอน
 4. ทำงานตามความคิดสร้างสรรค์
4. ข้อใดเป็นขั้นตอนแรกของการวางแผนทำงานบ้าน
 1. การลงมือทำงาน
 2. การเขียนแผนการทำงาน
 3. การประเมินผลการทำงาน
 4. การจัดแบ่งประเภทของงาน
5. งานบ้านข้อใดจัดเป็นแผนงานประจำสัปดาห์
 1. ซักผ้า
 2. ซักมุ้ง
 3. เก็บผ้า
 4. จัดตู้เสื้อผ้า
6. เครื่องมือเครื่องใช้ในการทำความสะอาดก่อนนำมาใช้งานควรทำอย่างไร
 1. นำไปล้างน้ำ
 2. ศึกษาวิธีใช้งาน
 3. ทดสอบคุณภาพ
 4. ตรวจสอบส่วนที่ชำรุด
7. ข้อใดไม่ใช่เครื่องมือเช็ดและถู
 1. ผ้า
 2. ฟองน้ำ
 3. ไม้ถูพื้น
 4. ไม้กวาดขนไก่
8. “นภาต้องการทำความสะอาดภาชนะใส่อาหาร” นภาควรเลือกใช้เครื่องมือใด
 1. น้ำสบู่
 2. น้ำยาล้างจาน
 3. น้ำยาขัดโลหะ
 4. น้ำผสมผงซักฟอก
9. ใครปฏิบัติถูกต้อง
 1. โอใช้ผงซักฟอกล้างจาน
 2. แอมใช้น้ำสบู่ซักผ้าขนหนู
 3. อ้อมใช้น้ำยาขัดพื้นเช็ดกระจก
 4. เอ๋ใช้น้ำยาขัดผนังเช็ดเครื่องเงิน
10. ข้อใดเป็นขั้นตอนแรกของการทำความสะอาดห้องนอน
 1. กวาดฝุ่นใต้เตียงนอน
 2. ปิดฝุ่นด้วยไม้กวาดขนไก่
 3. ปิดหยากไย่บนเพดานห้อง
 4. ถูพื้นด้วยผ้าชุบน้ำบิดหมาด
11. ก๊อกรน้ำและอ่างล้างหน้าควรทำความสะอาดอย่างไร
 1. ขัดด้วยผ้าสะอาดชุบน้ำสบู่
 2. ขัดด้วยฟองน้ำชุบน้ำผงซักฟอก
 3. ขัดด้วยแผ่นขัดชุบน้ำยาล้างห้องน้ำ
 4. ขัดด้วยแปรงลวดชุบน้ำยาล้างห้องน้ำ

กลุ่มสาระการเรียนรู้การงานอาชีพและเทคโนโลยี รหัสวิชา ง22101 ระดับชั้นมัธยมศึกษาปีที่ 2

12. การจัดตกแต่งบ้านวิธีใดที่คำนึงถึงความสวยงาม
 1. วางเครื่องเบญจรงค์ในตู้โชว์
 2. ประดิษฐ์โคมไฟจากเศษวัสดุ
 3. นำเก้าอี้หวายมาตกแต่งในเรือนไม้
 4. ติดผ้า幔ลายดอกไม้ในห้องรับแขก
13. ข้อใดไม่คำนึงถึงความเหมาะสมในการจัดตกแต่งบ้าน
 1. นำโคมไฟมาตกแต่งในห้องนอน
 2. นำไม้ไผ่มาตกแต่งในสวนหลังบ้าน
 3. นำเครื่องหวายมาตกแต่งในห้องน้ำ
 4. นำเซรามิกมาตกแต่งในห้องรับแขก
14. “นุสเลือกซื้อเครื่องใช้ในท้องถิ่นมาจัดตกแต่งบ้าน” นุสปฏิบัติตรงกับหลักการจัดตกแต่งบ้านข้อใด
 1. ความสวยงาม
 2. ความประหยัด
 3. ความเหมาะสม
 4. ความคิดสร้างสรรค์
15. ห้องที่มีผนังทึบควรจัดวางเครื่องเรือนอย่างไร
 1. จัดวางเป็นจุด
 2. จัดวางชิดผนัง
 3. จัดวางแนวเฉียง
 4. จัดวางไว้กลางห้อง
16. การจัดตกแต่งโดยใช้ต้นไม้มีวิธีการอย่างไร
 1. นำไปบูชาพระ
 2. นำไปลอยน้ำในอ่าง
 3. นำไปวางตามมุมห้อง
 4. นำไปแขวนใกล้ประตู
17. การตรวจรอยชำรุดเสียหายของเครื่องอุปโภคบริโภคจัดเป็นการปฏิบัติตามหลักการใช้และเก็บรักษาเครื่องอุปโภคบริโภคข้อใด
 1. ศึกษาวิธีการใช้งาน
 2. จัดเก็บให้ถูกที่ถูกต้องวิธี
 3. ดูแลรักษาและซ่อมแซม
 4. เลือกใช้ให้เหมาะกับหน้าที่การใช้งาน
18. ข้อใดกล่าวผิดเกี่ยวกับการดูแลรักษาเครื่องเงินหลังการใช้งาน
 1. ล้างด้วยผงซักฟอก
 2. รีบเก็บใส่ถุงพลาสติกทันที
 3. ล้างด้วยน้ำยาขัดเงินโดยเฉพาะ
 4. ใช้น้ำอุ่นผสมสบู่ล้าง แล้วขัดให้สะอาด
19. การใช้หลอดไฟฟ้าในข้อใดไม่ปลอดภัย
 1. ใช้พลาสติกปิดคลุมหลอดไฟฟ้า
 2. ออกห่างจากหลอดไฟเรืองแสงที่แตก
 3. ปลดอยให้มีไฟกะพริบจนหัวหลอดไฟฟ้าเป็นสีแดง
 4. ปลดวงจรไฟฟ้าของหลอดไฟก่อนที่จะเปลี่ยนหลอดใหม่
20. ใครใช้ตู้เย็นได้ประหยัดพลังงานมากที่สุด
 1. นุชใช้ตู้เย็นสองประตู
 2. แชนมใช้ตู้เย็นประหยัดไฟหมายเลข 1
 3. พ่อมีลูก 5 คน จึงเลือกใช้ตู้เย็นขนาด 2.5 ลูกบาศก์ ฟุต (คิว)
 4. แดงโมเปิดตู้เย็นเฉพาะตอนที่ให้นำอาหารแช่แข็งมาทำกับข้าว


กลุ่มสาระการเรียนรู้การงานอาชีพและเทคโนโลยี รหัสวิชา ง22101 ระดับชั้นมัธยมศึกษาปีที่ 2

21. ข้อใดกล่าวถูกต้อง
 1. ใช้เครื่องใช้ไฟฟ้าที่มีราคาถูกเสมอ
 2. ควรเสียบเต้าเสียบไว้กับเต้ารับทั้งวัน
 3. หยุดใช้เครื่องใช้ไฟฟ้าที่มีเสียงผิดปกติ
 4. ควรติดตั้งสวิตช์ปิด-เปิด และเต้ารับให้หลวมอยู่เสมอ
22. หนูหม่อมรูปร่างอ้วนเตี้ย ผิวคล้ำ ควรเลือกซื้อ เสื้อผ้าตามข้อใด
 1. ผ้าไม่มีลาย สีอ่อน
 2. ผ้าลายดอกเล็ก สีเทา
 3. ผ้าลายตามขวาง สีอ่อน
 4. ผ้าระบายลูกไม้โปร่ง สีหม่น
23. คนผิวขาวควรเลือกซื้อเสื้อผ้าสีใด
 1. สีเข้ม
 2. สีอ่อน
 3. สีหม่น
 4. สีใดก็ได้
24. การไปงานขึ้นบ้านใหม่ควรแต่งกายอย่างไรให้เหมาะสม
 1. แต่งกายขาว-ดำ
 2. แต่งกายชุดดำทั้งชุด
 3. แต่งกายด้วยชุดสีหม่น
 4. แต่งกายด้วยชุดสีสดใส
25. ข้อใดไม่ใช่วิธีการเลือกซื้อเสื้อผ้าเครื่องแต่งกาย
 1. การคำนวณราคา
 2. การเลือกสีและแบบ
 3. การเลือกสถานที่ซื้อ
 4. การตรวจสอบคุณภาพ
26. ข้อใดเป็นวิธีการตรวจสอบคุณภาพของเสื้อผ้าเครื่องแต่งกาย
 1. อ่านป้ายราคา
 2. อ่านป้ายโฆษณา
 3. สอบถามพนักงาน
 4. ตรวจสอบกับเพื่อน
27. ใครมีมารยาทที่ดีในการเลือกซื้อเสื้อผ้า
 1. ปูวางเสื้อที่ลองแล้วไว้บนพื้น
 2. จินทำเสื้ดกแต่ให้พนักงานชายเก็บ
 3. แยมทำเสื้อที่ลองขาดแล้วแขวนเก็บไว้
 4. อ้อมยื่นเสื้อให้พนักงานชายหลังจากดูแล้ว
28. ชมพู่มีขนาดเอวเล็กกว่าสะโพกควรเลือกซื้อกระโปรงอย่างไร
 1. เลือกขนาดเท่าเอว
 2. เลือกขนาดพอดีตัว
 3. เลือกขนาดเท่าสะโพก
 4. เลือกขนาดตามความชอบ
29. ข้อใดคือวิธีการเลือกซื้อกางเกงที่ถูกต้อง
 1. เลือกขนาดที่คับพอดีตัว
 2. เลือกเป้ากางเกงที่เย็บแบบตึง
 3. เลือกขอบเอวกางเกงที่มีผ้าทาบ
 4. เลือกแบบกางเกงที่ไม่ต้องสอยชาย
30. ข้อใดไม่ใช่เครื่องมือที่ใช้ทำเครื่องหมายในการตัดเย็บเสื้อผ้า
 1. ดินสอ
 2. เข็มมือ
 3. ลูกกลิ้ง
 4. กระดาษกรอช

กลุ่มสาระการเรียนรู้การงานอาชีพและเทคโนโลยี รหัสวิชา ง22101 ระดับชั้นมัธยมศึกษาปีที่ 2

31. ไฟล์งาน PowerPoint 2010 ที่บันทึกแล้วจะมีนามสกุลใด ?

1. *.doc 2. *.pptx 3. *.pdf 4. *.exe


32.  รูปภาพดังต่อไปนี้ คือส่วนของเมนูใด

1. WordArt 2. Format 3. Text Edit 4. Text Color

33. หากต้องการใช้เมนูจัดรูปแบบทำได้โดยวิธีใด



1. มุมมอง => จัดรูปแบบ 2. แทรก => จัดรูปแบบ
3. ออกแบบ => จัดรูปแบบ 4. แก้ไข => จัดรูปแบบ


34. แถบเครื่องมือนี้ชื่อว่าอะไร 

1. Ribborn 2. Quick Access Toolbar 3. Working Space 4. Outline Tab

35. รูปแบบในภาพนี้ ได้มาจากการเลือกที่ใด

1. รูปร่างพื้นฐาน
2. ปุ่มปฏิบัติการ
3. แพนฟังก์ชันงาน
4. รูปวาด



36. แถบเครื่องมือนี้ทำหน้าที่อะไร 

1. จัดแนวข้อความ 2. แถบแสดงผลสไลด์ 3. ย่อ/ขยายข้อความ 4. เปลี่ยนแบบตัวอักษร


37. สัญลักษณ์ใดเป็นสัญลักษณ์ของโปรแกรม Microsoft PowerPoint 2010

1.  2.  3.  4. 

38. แถบเครื่องมือข้างบนนี้ชื่อว่าอะไร 

1. Outline Tab 2. Working Space 3. Menu bar 4. Title bar

39. ถ้าเราต้องการสร้างภาพนิ่งใหม่ต้องใช้คำสั่งใด

1.  2.  3.  4. 

กลุ่มสาระการเรียนรู้การงานอาชีพและเทคโนโลยี รหัสวิชา ง22101 ระดับชั้นมัธยมศึกษาปีที่ 2

40. พื้นที่การทำงานของ Microsoft PowerPoint เรียกว่าอะไร


1. เดสก์ท็อป 2. สไลด์ 3. การนำเสนองาน 4. หน้าจอ

41. แถบเครื่องมือข้างบนนี้ชื่อว่าอะไร

1. Ribborn
2. Outline Tab
3. Title bar
4. Working Space



42. หากต้องการใช้งาน ภาพสัตว์หรือภาพสิ่งของ ที่มีอยู่แล้วในโปรแกรม Microsoft PowerPoint ควรเลือกเมนูใด

1.  2.  3.  4. 

43. รูปใดต่อไปนี้เป็นเครื่องมือแทรกตารางการทำงานในโปรแกรม Microsoft PowerPoint

1.  2.  3.  4. 

44. หากต้องการนำมัลติมีเดียเข้าสู่โปรแกรม Microsoft PowerPoint 2007 ควรเลือกเมนูใดต่อไปนี้เป็น

1. หน้าแรก (Home) 2. รูปแบบ (Format) 3. แทรก (Insert) 4. มุมมอง (View)

45. คำสั่งการนำเสนอภาพนิ่ง สามารถใช้ปุ่มใดต่อไปนี้เป็น

1. F8 2. F5 3. F6 4. F7

46.  รูปภาพดังต่อไปนี้ สามารถเรียกได้จากแถบเครื่องมืออะไร

1. WordArt 2. Format 3. Text Color 4. Text Edit

47. โปรแกรม Microsoft PowerPoint เป็นโปรแกรมประเภทใด ?

1. โปรแกรมกราฟฟิกส์ 2. โปรแกรมตารางคำนวณ
3. โปรแกรมนำเสนอข้อมูล 4. โปรแกรมการประมวลคำ

48. การเปลี่ยนชื่อไฟล์มีวิธีการอย่างไร

1. คลิกที่ชื่อไฟล์ หรือ โฟลเดอร์ที่ต้องการ แล้วเลือกคำสั่ง Properties
2. คลิกที่ชื่อไฟล์ หรือ โฟลเดอร์ที่ต้องการ แล้วเลือกคำสั่ง Delete
3. คลิกที่ชื่อไฟล์ หรือ โฟลเดอร์ที่ต้องการ แล้วเลือกคำสั่ง Copy
4. คลิกที่ชื่อไฟล์ หรือ โฟลเดอร์ที่ต้องการ แล้วเลือกคำสั่ง Rename

กลุ่มสาระการเรียนรู้การงานอาชีพและเทคโนโลยี รหัสวิชา ง22101 ระดับชั้นมัธยมศึกษาปีที่ 2

49.  หมายถึงข้อใด

1. การแรเงาข้อความ
2. การใส่สีพื้นและเส้น
3. การเติมเส้นขอบ
4. การเปลี่ยนสีแบบอักษร

50.  หมายถึงข้อใด

1. การแทรกภาพยนตร์
2. การแทรกเสียง
3. การแทรกข้อคิดเห็น
4. การแทรกวัตถุ





โรงเรียนบูรณะศึกษา

ระดับชั้น

วิชา

ชื่อ - สกุล

เลขที่ประจำตัวบัตรประชาชน 13 หลัก												
0	0	0	0	0	0	0	0	0	0	0	0	0
1	1	1	1	1	1	1	1	1	1	1	1	1
2	2	2	2	2	2	2	2	2	2	2	2	2
3	3	3	3	3	3	3	3	3	3	3	3	3
4	4	4	4	4	4	4	4	4	4	4	4	4
5	5	5	5	5	5	5	5	5	5	5	5	5
6	6	6	6	6	6	6	6	6	6	6	6	6
7	7	7	7	7	7	7	7	7	7	7	7	7
8	8	8	8	8	8	8	8	8	8	8	8	8
9	9	9	9	9	9	9	9	9	9	9	9	9

รหัสวิชา				
0	0	0	0	0
1	1	1	1	1
2	2	2	2	2
3	3	3	3	3
4	4	4	4	4
5	5	5	5	5
6	6	6	6	6
7	7	7	7	7
8	8	8	8	8
9	9	9	9	9

เลขประจำตัวนักเรียน				
0	0	0	0	0
1	1	1	1	1
2	2	2	2	2
3	3	3	3	3
4	4	4	4	4
5	5	5	5	5
6	6	6	6	6
7	7	7	7	7
8	8	8	8	8
9	9	9	9	9

คำแนะนำ

- ♦ ใช้ดินสอดำ 2B เท่านั้น ระบายวงกลมทุกวงที่ต้องการให้คำตอบ
- ♦ ถ้าต้องการแก้ไข ให้ใช้ยางลบให้สะอาดก่อน จึงระบายวงใหม่
- ♦ ห้ามขีดเขียนที่อื่นใดนอกเหนือจากที่ระบุไว้

- ① ② ③ ● ← ถูกวิธี
- ① ② ③ ◐ ← ผิดวิธี
- ① ✗ ③ ● ← ผิดวิธี
- ① ② ③ ✗ ← ผิดวิธี